

INTEGRATION

D)PRIMITIVES

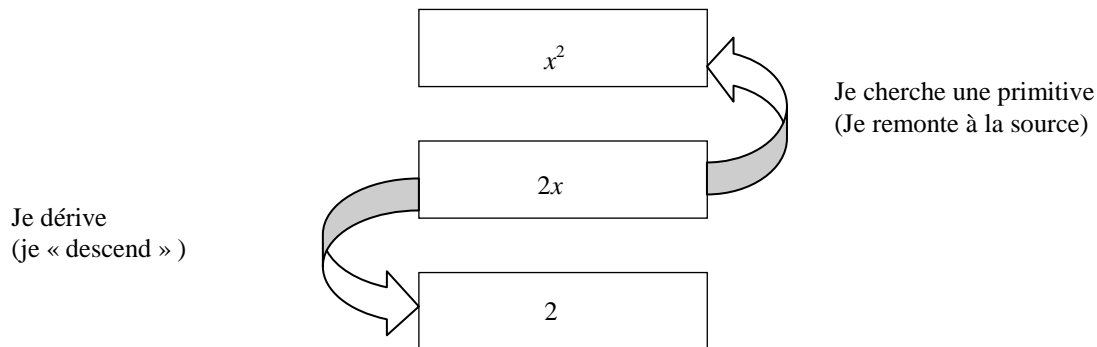
1°) Etude d'un exemple simple

On sait très facilement calculer la dérivée de la fonction $f(x)=2x$; c'est $f'(x) = 2$.

On veut savoir maintenant ce que l'on va obtenir si on fait le chemin « à l'envers ». En effet je voudrais trouver une fonction F dont la dérivée est f c'est-à-dire que je cherche F telle que $F'(x)=2x$.

Ici il est facile de voir que la fonction $F(x) = x^2$ est une solution à notre problème.

On dit que F est une **primitive** de f . On peut symboliser la démarche à l'aide du schéma ci-dessous :



Exercice

Etant donnée une fonction f déterminer une primitive de f c'est-à-dire une fonction F telle que $F'(x) = f(x)$:

- a) $f(x) = 2$ b) $g(x) = 3x^2$ c) $h(x) = 4x^3$.

2°) Définition

Soit f une fonction définie et dérivable sur I . Une fonction F définie sur I est une primitive de f sur I lorsque F est dérivable sur I

et que

$$F' = f$$

Exemples :

- $f(x) = 1$ une primitive de f est alors $F(x) = x$. Vérification : $F'(x) = 1$
- $f(x) = x$ une primitive de f est alors $F(x) = \frac{1}{2}x^2$. Vérification : $F'(x) = 2(\frac{1}{2}x) = x$
- $f(x) = \frac{1}{x}$ pour x dans $I =]0 ; +\infty[$ une primitive de f sur I est alors $F(x) = \ln x$. Vérification $F'(x) = \frac{1}{x}$

3°) Ensemble des primitives d'une fonction

Observation : si $G(x) = C$ où C est une constante réelle ,quelle est sa dérivée $g(x)$?

Donc toute constante réelle C est UNE PRIMITIVE de la fonction nulle.

On en déduit le théorème suivant :

Théorème 1

Soit f une fonction définie et dérivable sur I et F une primitive de f sur I . Les primitives de f sur I sont alors toutes les fonctions définies sur I par $x \rightarrow F(x) + C$ où C est une constante réelle.

Exemples : a) Donner les primitives de la fonction $f(x) = 3x^2$; ce sont les fonctions $x \rightarrow x^3 + C$ où $C \in \mathbb{R}$.

b) Donner l'ensemble des primitives de la fonction $f(x) = 4x^3$; c'est l'ensemble des fonctions $x \rightarrow x^4 + C$ où $C \in \mathbb{R}$.

Théorème 2

Soit f une fonction définie et dérivable sur I .

Parmi les primitives de f définies sur I il en existe une et une seule telle que $F(x_0) = y_0$.

En particulier la fonction $x \rightarrow F(x) - F(a)$ est la seule primitive de f qui s'annule en a .

Exemple : Déterminer la primitive F_0 de la fonction f définie sur \mathbb{R} par $f(x) = 3x^2$ telle que $F_0(1) = 0$.

On sait que F_0 s'écrit $F_0(x) = x^3 + C$. On va donc déterminer C pour que $F_0(1) = 0$

On remplace donc x par 1 et on obtient $F_0(1) = (1)^3 + C = 0$ soit $1 + C = 0$. Ce qui donne $C = -1$.

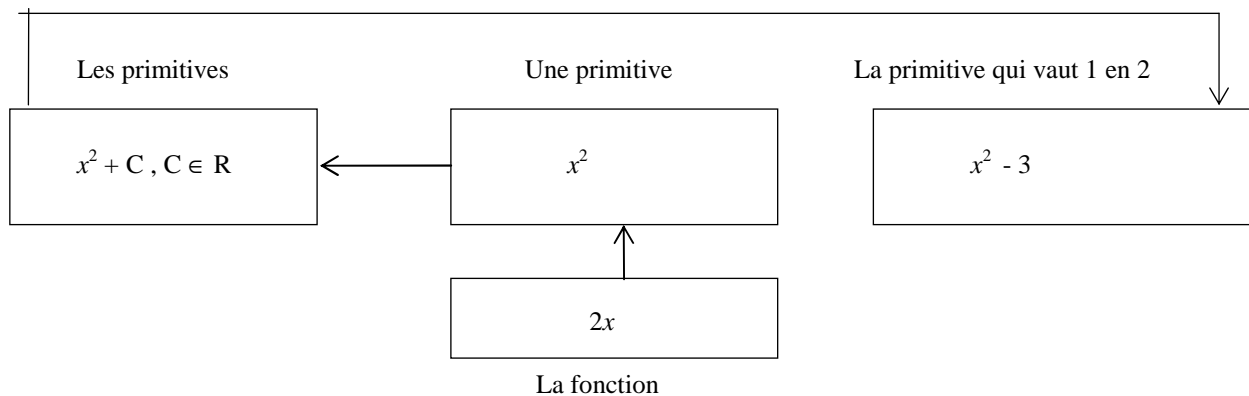
La primitive cherchée est donc $F_0(x) = x^3 - 1$.

Remarque : On fera donc bien la différence entre

une primitive de f (on donne généralement la fonction la plus simple qui répond à la question)

Les primitives de f (c'est la fonction trouvée ci-dessus $+ C$ où $C \in \mathbb{R}$)

La primitive de f vérifiant une condition (On cherche la constante réelle C pour laquelle la condition est vérifiée)



Exercice

Soit f la fonction définie sur \mathbb{R} par $f(x) = x^2$, déterminer :

- Une primitive de f sur \mathbb{R} .
- Les primitives de f sur \mathbb{R} .
- La primitive de f qui vaut 0 en -1.

- $F(x) = 1/3 x^3$
- Les primitives sont les fonctions $x \rightarrow 1/3x^3 + C$, $C \in \mathbb{R}$
- La primitive cherchée est la fonction $x \rightarrow 1/3x^3 - 1/3$

4°) Savoir montrer qu'une fonction donnée F est une primitive sur I d'une fonction f

Soit f une fonction définie et dérivable sur I .

Pour démontrer qu'une fonction F donnée est une primitive de f il suffit de vérifier que $F'(x) = f(x)$ pour tout x de I.

Exemple : Soit $f(x) = x^3 + 3x^2 - 2$. Montrer que la fonction F définie par $F(x) = \frac{1}{4}x^4 + x^3 - 2x + 3$ est une primitive de f sur R. $F'(x) = 4(\frac{1}{4}x^3) + 3x^2 - 2 = f(x)$ donc F est une primitive de f sur R.

Exercice : Montrer que la fonction donnée F est une primitive de f sur I

$$c) f(x) = \frac{1}{(x-2)^2} \quad F(x) = -\frac{1}{x-2} \quad I = [3; 100]$$

Il suffit de dériver F(x)

5°) Primitives des fonctions usuelles par lecture inverse du tableau des dérivées

a) Tableau

f	Df	F	DF
0	R	C	R
a		ax + C	
x		$\frac{1}{2}x^2 + C$	
x^2		$\frac{x^3}{3}$	
x^n		$\frac{x^{n+1}}{n+1} + C \quad n \in \mathbb{N}^*$	
$\frac{1}{x^2}$	R*	$-\frac{1}{x}$	R*
$\frac{1}{x^3}$	R*	$-\frac{1}{2x^2}$	R*
$\frac{1}{x^n}$	R*	$-\frac{1}{n-1} \times \frac{1}{x^{n-1}} \quad n \geq 2$	R*
$\frac{1}{2\sqrt{x}}$	R ⁺	\sqrt{x}	R ⁺ *
$\frac{1}{x}$]0; +∞[ln x]0; +∞[
e^x	R	e^x	R
cos x		sin x	
-sin x		cos x	
$1 + \tan^2 x$]-π/2; π/2[tan x	
cos(ax + b)		Sin(ax+b)/a	
sin(ax + b)		-cos(ax+b)/a	
$x^\alpha \quad \alpha \text{ dans } \mathbb{R} - \{-1\}$]0; +∞[$x^{\alpha+1}/\alpha+1$]0; +∞[
$\frac{1}{\sqrt{1-x^2}}$]-1; 1[Arcsin x	[-1; 1]
$\frac{-1}{\sqrt{1-x^2}}$	“	Arccos x	“
$\frac{1}{1+x^2}$	R	Arctan x	R

b) Opérations

En s'appuyant sur les résultats concernant les opérations sur les fonctions dérivables, on établit que :

Si F est une primitive de f sur un intervalle I et G est une primitive de g sur un intervalle I alors :

- $F + G$ est une primitive de $f + g$
- aF est une primitive de af où a est une constante réelle.

Exemples :

a) Une primitive de $f(x) = x^3 + \frac{1}{x^2}$ sur $I = [1; 10]$ est $F(x) = \frac{1}{4}x^4 - 1/x$

b) Une primitive de $f(x) = 5x^3$ sur \mathbb{R} est $F(x) = 5(\frac{1}{4}x^4) = \frac{5}{4}x^4$.

c) Conséquences des formules de dérivation

Fonction	Primitive	EXEMPLES : Dans chaque cas calculer les primitives de la fonction donnée sur I .
$U' \cdot U$	$\frac{1}{2} U^2$	Soit f la fonction définie sur \mathbb{R} par $f(x) = 6x^2(2x^3 + 1)$ $F(x) = \frac{1}{2}(2x^5 + 1)^2 + C, C$ dans \mathbb{R}
$U' \cdot U^n, n \in \mathbb{N}^*$	$\frac{U^{n+1}}{n+1}$	Soit f la fonction définie sur \mathbb{R} par $f(x) = (2x+1)(x^2+x)^2$ $F(x) = \frac{1}{3}(x^2+x)^3 + C, C$ dans \mathbb{R}
$\frac{U'}{U^2}$ ($U \neq 0$ sur I)	$-\frac{1}{U}$ ($U \neq 0$ sur I)	Soit f la fonction définie sur \mathbb{R} par $f(x) = \frac{2x}{(x^2+1)^2}$ $F(x) = -\frac{1}{x^2+1} + C, C$ dans \mathbb{R}
$\frac{U'}{U^n}$ ($U \neq 0$ sur I) n entier et $n \geq 2$	$-\frac{1}{n-1} \times \frac{1}{U^{n-1}}$ ($U \neq 0$ sur I) n entier et $n \geq 2$	Soit f la fonction définie sur \mathbb{R} par $f(x) = \frac{2x+3}{(x^2+3x+3)^3}$ $F(x) = -\frac{1}{2(x^2+3x+3)^2} + C, C$ dans \mathbb{R}
$\frac{U'}{\sqrt{U}}$ ($U > 0$ sur I)	$2\sqrt{U}$	Soit f la fonction définie sur \mathbb{R}^+ par $f(x) = \frac{3x^2}{\sqrt{x^3+1}}$ $F(x) = 2\sqrt{x^3+1} + C, C$ dans \mathbb{R}
$\frac{U'}{U}$ ($U \neq 0$ sur I)	$\ln U $	Soit f la fonction définie sur \mathbb{R}^+ par $f(x) = \frac{2x+1}{x^2+x+1}$ $F(x) = \ln(x^2+x+1) + C, C$ dans \mathbb{R} car $x^2+x+1 > 0$ sur \mathbb{R}
$U' e^U$	e^U	Soit f la fonction définie sur \mathbb{R} par $f(x) = 2xe^{x^2+1}$ $F(x) = e^{x^2+1}$

Exemple : Soit f la fonction définie sur \mathbb{R} par $f(x) = x(x^2+1)$. Donner la primitive de f qui s'annule en 1.

Méthode : d'abord on essaie d'identifier la formule que l'on va utiliser, ici $U'U$.

Cependant si $U(x) = x^2+1$ alors $U'(x) = 2x$ et non x . On va donc « faire apparaître » $U'(x)$.

$f(x) = \frac{1}{2} [2x(x^2+1)]$ d'où $F(x) = \frac{1}{2} [\frac{1}{2}(x^2+1)^2] + C = \frac{1}{4}(x^2+1)^2 + C$ où C dans \mathbb{R} . Comme $F(1) = 0$ on a $C = -1$ et $F(x) = \frac{1}{4}(x^2+1)^2 - 1$.

6°) Primitives d'une fonction rationnelle à pôles réels simples

Soit f la fonction définie sur $\mathbb{R} \setminus \{-1; 2\}$ par $f(x) = \frac{2x+1}{(x+1)(x-2)}$

Ici -1 et 2 sont des pôles simples de f(x).

Soit g la fonction définie sur $\mathbb{R} \setminus \{-1; 2\}$ par $g(x) = \frac{2x+1}{(x+1)^2(x-2)}$

Ici 2 est un pôle simple de g(x); mais -1 n'est pas un pôle simple. (-1 est une racine double du dénominateur !)

Définition

Soit f une fonction rationnelle simplifiée. $f(x) = \frac{N(x)}{D(x)}$

On dit que a est un pôle simple de f si a est une racine simple de son dénominateur.

Théorème dans le cas où $d^{\circ}N \geq d^{\circ}D$

Soit f une fonction rationnelle simplifiée. $f(x) = \frac{N(x)}{D(x)}$ avec $d^{\circ}N \geq d^{\circ}D$

Alors il existe un unique couple de polynômes (Q,R) tels que, **pour D non nul**

$$\frac{N(x)}{D(x)} = Q(x) + \frac{R(x)}{D(x)} \quad \text{avec } d^{\circ}Q = d^{\circ}N - d^{\circ}D \text{ et } d^{\circ}R < d^{\circ}D$$

Exemple : Transformons la fraction

$$f(x) = \frac{x^3 - 2}{x^2 + x - 2}$$

$$N(x) = x^3 - 2 \\ \text{Et } d^{\circ}N = 3$$

$$Q(x) = ax + b \\ \text{Et } d^{\circ}Q = d^{\circ}N - d^{\circ}D = 1 \text{ et } d^{\circ}R = 1$$

$$\frac{x^3 - 2}{x^2 + x - 2} = ax + b + \frac{cx + d}{x^2 + x - 2}$$

$$D(x) = x^2 + x - 2 \\ \text{Et } d^{\circ}D = 2$$

Donc $f(x) = \frac{ax^3 + (a+b)x^2 + (-2a+b+c)x + d - 2b}{x^2 + x - 2}$

Par identification

$$\begin{cases} a = 1 \\ a + b = 0 \\ -2a + b + c = 0 \\ d - 2b = -2 \end{cases} \quad \text{soit} \quad \begin{cases} a = 1 \\ b = -1 \\ c = 3 \\ d = -4 \end{cases} \quad \frac{x^3 - 2}{x^2 + x - 2} = x - 1 + \frac{3x - 4}{x^2 + x - 2}$$

Exercice : même exercice avec $f(x) = \frac{x^2 + 3x - 1}{x + 1}$

.....

.....

.....

.....

Décomposition en éléments simples

Théorème

Soit f une fonction rationnelle simplifiée avec $f(x) = \frac{cx + d}{(x - a)(x - b)}$ où a et b sont des pôles réels simples.

Alors il existe un unique couple de réels (m , p) tels que

$$f(x) = \frac{m}{x - a} + \frac{p}{x - b}$$

Remarque : le théorème reste vrai si $f(x) = \frac{N(x)}{D(x)} = \frac{N(x)}{(x - a_1)(x - a_2) \dots (x - a_n)}$ avec $d^{\circ}N < d^{\circ}D$.

Exemple : On décompose la fraction g(x) en éléments simples

$$G(x) = \frac{3x - 4}{x^2 + x - 2} = \frac{3x - 4}{(x - 1)(x - 2)} = \frac{m}{x - 1} + \frac{p}{x - 2} = \frac{(m + p)x - (p + 2m)}{x^2 + x - 2}$$

Par identification on obtient

$$\begin{cases} m + p = 3 \\ 2m + p = 4 \end{cases} \quad \begin{cases} m = 1 \\ p = 2 \end{cases}$$

$$\frac{3x - 4}{x^2 + x - 2} = \frac{1}{x - 1} + \frac{2}{x - 2}$$

Exercice : même exercice avec $f(x) = \frac{x^2 + 1}{x^3 - 2x^2 - x + 2}$

Conséquences : primitives d'une fonction rationnelle

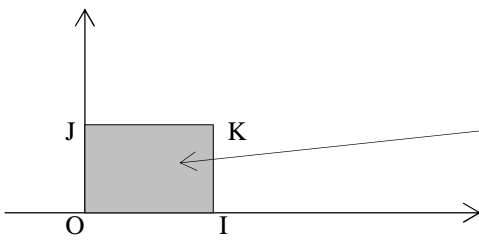
Exercice : Déterminer une primitive de la fonction définie sur $[6 ; 8]$ par $f(x) = \frac{x + 4}{x^2 - 7x + 10}$

Exercice : Déterminer une primitive de la fonction définie sur \mathbb{R} par $f(x) = \frac{x^3 - 3x^2 + 2x - 3}{x^2 + 1}$

II) INTEGRALES

IMPORTANT : L'UNITE D'AIRE

Soit $(O ; i ; j)$ repère orthogonal du plan . $OI = i$ et $OJ = j$;



L'aire du rectangle OIKJ est 1 unité d'aire , on a donc :

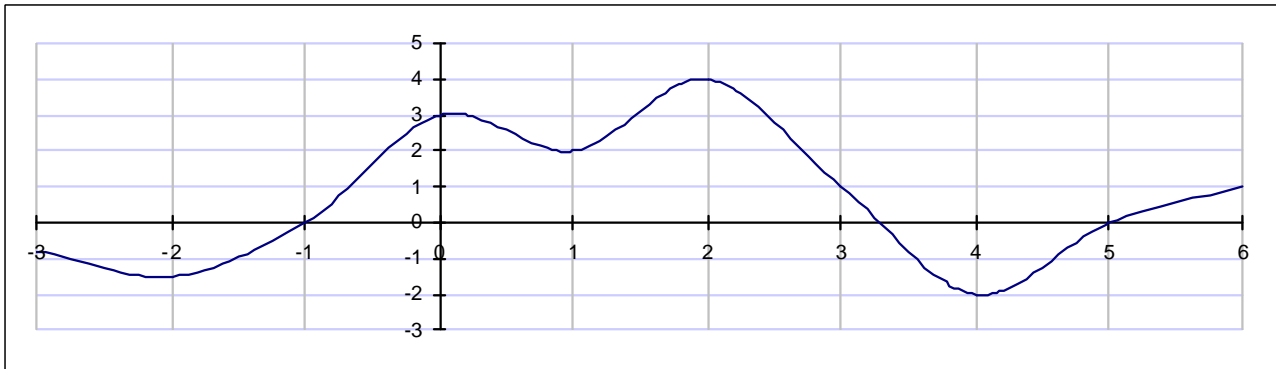
$$1 \text{ u.a.} = OI \times OJ = \|i\| \|j\|$$

Exemples :

- Si $\|i\| = \|j\| = 1 \text{ cm}$ alors l'unité d'aire est 1 cm^2
- Si $\|i\| = \|j\| = 2 \text{ cm}$ alors l'unité d'aire est 4 cm^2
- Si $\|i\| = 2$ et $\|j\| = 1 \text{ cm}$ alors l'unité d'aire est 2 cm^2

Remarque : une fonction CONTINUE est une fonction dont la courbe « n'a pas de trou »

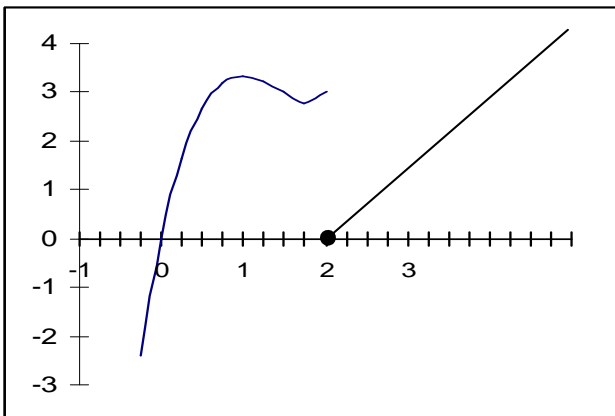
La fonction représentée ci – dessous est continue sur $[-3 ; 6]$



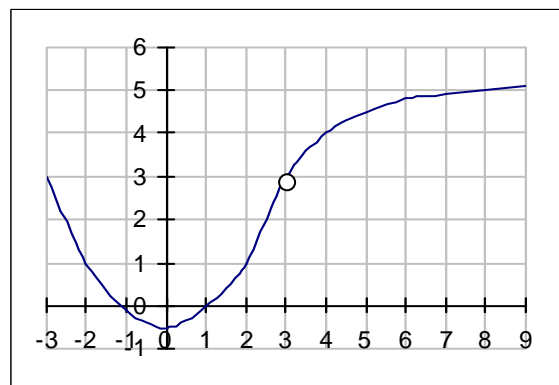
Les fonctions polynôme , rationnelle, irrationnelle, trigonométrique, \ln ,exp, et la fonction valeur absolue sont continues sur chaque intervalle qui compose leur ensemble de définition.

Contre – exemples :

1) La fonction g est définie sur $]-1 ; 5]$ mais n'est pas continue en 2.



2) La fonction h n'est pas continue en 3 car elle n'est pas définie en 3.



A) Intégration.

1° Définition

Soit f une fonction

CONTINUE ET POSITIVE

sur un intervalle $[a ; b]$

et C sa courbe représentative dans le repère $(O ; i , j)$.

Soit (E) le domaine du plan délimité par

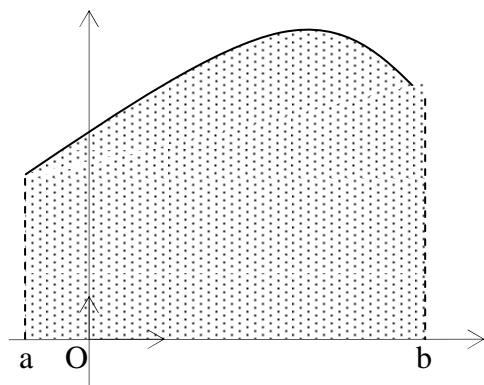
l'axe (Ox) ,

la courbe C et

les droites d'équations $x = a$ et $x = b$

(On peut écrire aussi que $M(x ; y)$ dans (E) ssi

$a \leq x \leq b$ et $0 \leq y \leq f(x)$)
 L'aire A de la partie (E) , est notée $\int_a^b f(x) dx$



Remarques : 1) On lit « intégrale de a à b de f de $x dx$ »

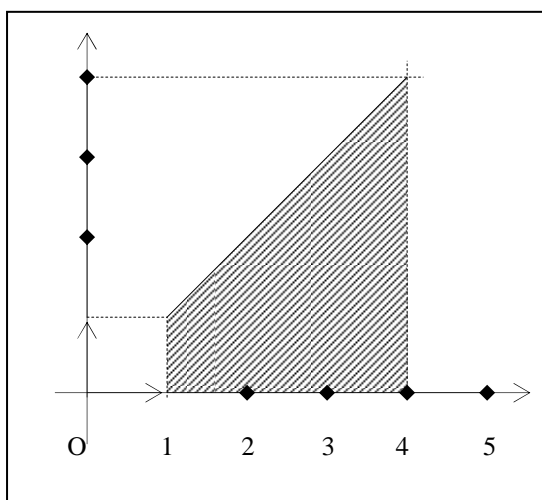
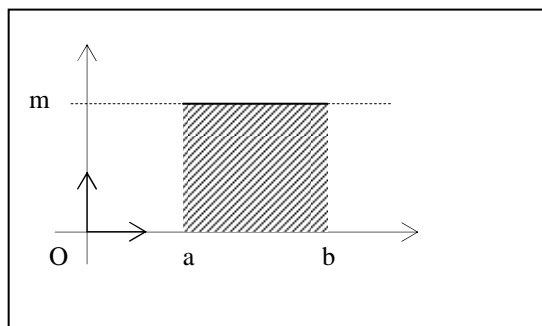
2) On dit que la variable est muette : $\int f(x) dx = \int f(u) du = \int f(t) dt$

3) $\int_a^a f(x) dx = 0$

4) Pour $m > 0$ $\int_a^b m dx = m(b - a)$

(aire du rectangle grisé)

5) $\int_1^4 x dx =$



2°) Valeur moyenne d'une fonction

Soit f une fonction continue et positive sur un intervalle $[a ; b]$ avec $a < b$. On appelle valeur moyenne de f sur $[a, b]$ le nombre réel

$$\frac{1}{b-a} \int_a^b f(x) dx$$

B) Intégrale et primitive

Théorème

Soit f une fonction continue sur un intervalle I et a un élément quelconque de I .

La fonction $\varphi(x) = \int_a^x f(t) dt$ est l'unique primitive de f sur I qui s'annule en a .

Exemple : $\ln x = \int_1^x \frac{1}{t} dt$

Intégrale et primitive

Soit f une fonction continue sur un intervalle I . Pour tous réels a et b de I , on a :

$$\int_a^b f(x) dx = F(b) - F(a) = [F(x)]_a^b$$

où F est une primitive quelconque de f sur I .

Exemples :

1) $\int_1^2 (x^2 + x + 1) dx = \left[\frac{x^3}{3} + \frac{x^2}{2} + x \right]_1^2 = \left(\frac{8}{3} + \frac{4}{2} + 2 \right) - \left(\frac{1}{3} + \frac{1}{2} + 1 \right) = \frac{7}{3} + \frac{3}{2} + 1 = \frac{29}{6}$

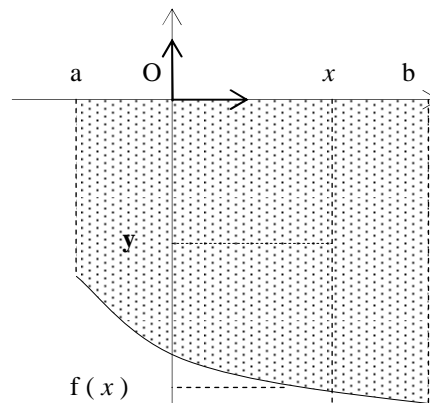
2) $\int_0^1 e^{-x} dx = \left[-e^{-x} \right]_0^1 = -e^{-1} - (-e^0) = 1 - \frac{1}{e}$

3) $\int_1^e \frac{\ln x}{x} dx = \left[\frac{(\ln x)^2}{2} \right]_1^e = \frac{1}{2}$

C) Intégrale d'une fonction de signe quelconque. Interprétation en terme d'aire
Cas d'une fonction négative

Soit f une fonction continue et **négative** sur un intervalle $[a, b]$.
 Si A est l'aire du domaine (E) du plan délimité par l'axe (Ox), la courbe C et les droites d'équations $x = a$ et $x = b$ c'est - à - dire l'ensemble des points $M(x; y)$ tels que $a \leq x \leq b$ et $f(x) \leq y \leq 0$ est

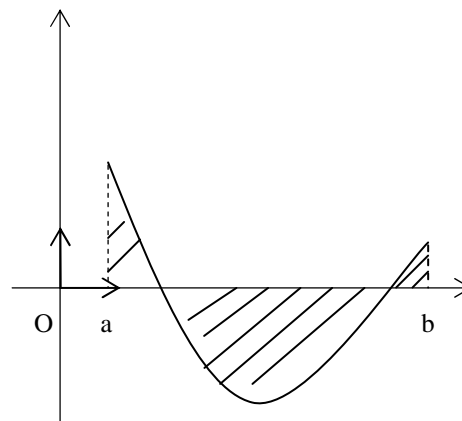
$$A = - \int_a^b f(x) dx \quad \text{u.a.}$$



Cas d'une fonction changeant de signe

Soit f une fonction **continue qui change de signe** sur un intervalle $[a, b]$ et C sa représentation graphique.
 Si A_1 est l'aire de la partie du plan délimitée par l'axe (Ox), la partie de la courbe C située au - dessus de l'axe (Ox) et les droites d'équations $x = a$ et $x = b$ c'est - à - dire l'ensemble des points $M(x; y)$ tels que $a \leq x \leq b$ et $0 \leq y \leq f(x)$ et si A_2 est l'aire de la partie du plan délimitée par l'axe (Ox), la partie de la courbe C située en - dessous de l'axe (Ox) et les droites d'équations $x = a$ et $x = b$ c'est - à - dire l'ensemble des points $M(x; y)$ tels que $a \leq x \leq b$ et $f(x) \leq y \leq 0$
 On pose alors

$$\int_a^b f(x) dx = A_1 - A_2 \quad \text{u.a}$$



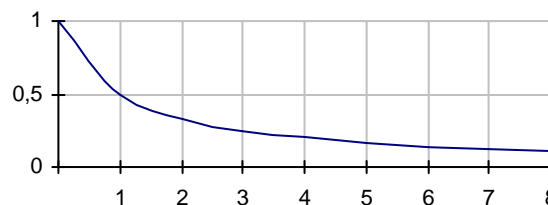
Remarque : On peut alors étendre la notion de valeur moyenne à une fonction f seulement continue et de signe quelconque.

Exemples de calculs d'aires

Exemple 1 :

Soit $f(x) = \frac{1}{x+1}$ et sa courbe représentative dans le repère ci-contre. Unités : 1 cm en abscisses ; 2 cm en ordonnées

- 1°) Hachurer la partie E des points $M(x; y)$ tels que $0 \leq x \leq 2$ et $0 \leq y \leq f(x)$
- 2°) Calculer la valeur exacte de l'aire de A en U.a.
- 3°) En déduire l'aire de A en cm^2 .



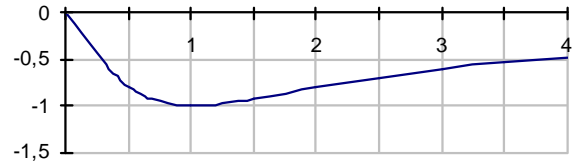
Exemple 2:

Soit $f(x) = -\frac{2x}{x^2 + 1}$ et sa courbe représentative dans le repère ci-contre. Unités : 2 cm en abscisses ; 2 cm en ordonnées

1°) Hachurer la partie E des points $M(x; y)$ tels que $1 \leq x \leq 3$ et $f(x) \leq y \leq 0$

2°) Calculer la valeur exacte de l'aire de A en U.a.

3°) En déduire l'aire de A en cm^2 .

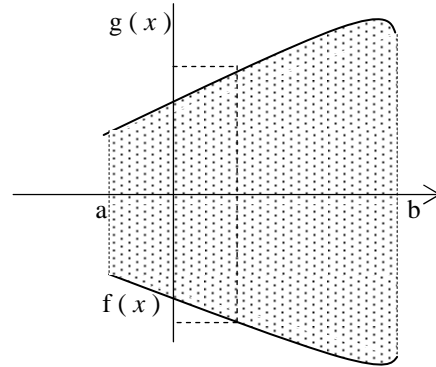


Aire de la partie du plan délimitée par deux courbes représentatives

Soit f et g deux fonctions continues sur un intervalle $[a, b]$, telles que pour tout x de $[a, b]$, $f(x) \leq g(x)$.

L'aire A de la partie du plan, ensemble des points $M(x; y)$ tels que $a \leq x \leq b$ et $f(x) \leq y \leq g(x)$ est

$$A = \int_a^b [g(x) - f(x)] dx \text{ u.a.}$$



Exemple :

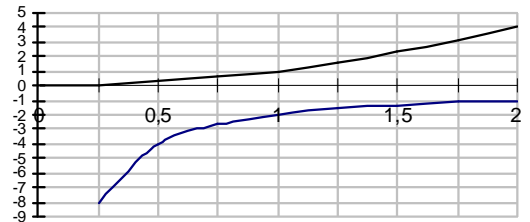
Soit $f(x) = -\frac{2}{x}$ et sa courbe représentative C_f dans le repère ci-contre.

Et soit $g(x) = x^2$ et sa courbe représentative C_g dans le même repère. Unités : 0.5 cm en abscisses ; 4 cm en ordonnées

1°) Hachurer la partie E des points $M(x; y)$ tels que $\frac{1}{4} \leq x \leq 1$ et $f(x) \leq y \leq g(x)$

2°) Calculer la valeur exacte de l'aire de A en U.a.

3°) En déduire l'aire de A en cm^2 .

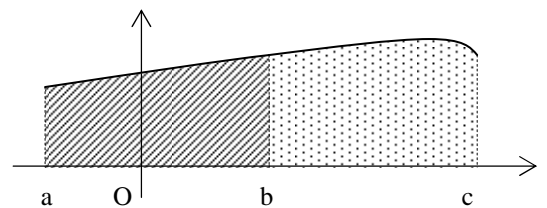


3°) Propriétés de l'intégrales

a) Relation de Chasles

Soit f une fonction continue sur un intervalle I et a, b, c des éléments de I .

$$\int_a^b f(x) dx + \int_b^c f(x) dx = \int_a^c f(x) dx$$

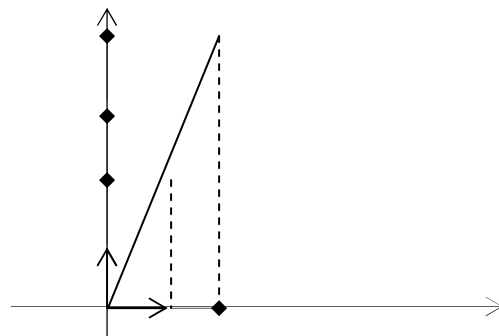


Exemple :

$$\int_0^1 2x dx = \left[x^2 \right]_0^1 = 1$$

$$\int_1^2 2x dx = \left[x^2 \right]_1^2 = 3$$

$$\int_0^2 2x dx = \left[x^2 \right]_0^2 = 4 = 1 + 3.$$



b) Linéarité

Soit f une fonction dérivable sur un intervalle I et a et b deux éléments de I .

$$\int_a^b f(x) dx + \int_a^b g(x) dx = \int_a^b [f(x) + g(x)] dx$$

Pour tout nombre réel λ ,

$$\int_a^b \lambda f(x) dx = \lambda \int_a^b f(x) dx$$

Exemples:

$$1) \int_0^1 (x^2 + x + 1) dx = \left[\frac{x^3}{3} + \frac{x^2}{2} + x \right]_0^1 = \frac{1}{3} + \frac{1}{2} + 1 = \frac{11}{6}$$

$$\int_0^1 x^2 dx = \left[\frac{x^3}{3} \right]_0^1 = \frac{1}{3} \quad \int_0^1 (x+1) dx = \left[\frac{1}{2}x^2 + x \right]_0^1 = \frac{3}{2}$$

On a bien $\frac{1}{3} + \frac{3}{2} = \frac{11}{6}$.

$$2) \int_{-1}^3 5x dx = \left[\frac{5x^2}{2} \right]_{-1}^3 = \frac{45}{2} - \frac{5}{2} = \frac{40}{2} = 20 \quad \text{et} \quad \int_{-1}^3 x dx = \left[\frac{1}{2}x^2 \right]_{-1}^3 = 4$$

Exercices : Calculer 1°)

$$2°) \int_0^1 \frac{x+1}{3x^2-2x-1} dx = \int_0^{\pi/2} \cos t + \sin t dt =$$

c) Antisymétrie

$$\int_b^a f(x) dx = - \int_a^b f(x) dx$$

4°) Comparaison d'intégrales

Positivité

Soit f une fonction dérivable et positive sur un intervalle I

et a et b deux éléments de I . Si $a \leq b$ alors

$$\int_a^b f(x) dx \geq 0$$

Signe d'une intégrale

Soit f une fonction continue sur un intervalle I

et a et b deux éléments de I .

	Si $a < b$	Si $a > b$
Si $f \geq 0$ sur I	$\int_a^b f(x) dx \geq 0$	$\int_a^b f(x) dx \leq 0$
Si $f \leq 0$ sur I	$\int_a^b f(x) dx \leq 0$	$\int_a^b f(x) dx \geq 0$

Intégration d'une inégalité

Soit f et g deux fonctions dérivables sur un intervalle I et a et b deux éléments de I .

Si $a \leq b$ et si pour tout réel x de $[a ; b]$ $f(x) \leq g(x)$ alors $\int_a^b f(x) dx \leq \int_a^b g(x) dx$

Exemple :

Grâce à ce théorème on peut encadrer la valeur d'une intégrale que l'on ne sait pas calculer.

On sait que la fonction $f(x) = \frac{1}{x^2 + 1}$ est pour tout x de $[0 ; 1]$ telle que $-\frac{1}{2}x + 1 \leq f(x) \leq -\frac{1}{2}x^2 + 1$

On en déduit alors d'après le théorème que $\int_0^1 (-\frac{1}{2}x + 1) dx \leq \int_0^1 f(x) dx \leq \int_0^1 (-\frac{1}{2}x^2 + 1) dx$

Soit $\left[-\frac{1}{4}x^2 + x \right]_0^1 \leq \int_0^1 f(x) dx \leq \left[-\frac{1}{6}x^3 + x \right]_0^1$ soit finalement $\frac{3}{4} \leq \int_0^1 f(x) dx \leq \frac{5}{6}$

Inégalité de la moyenne

Soit f une fonction continue sur un intervalle $I=[a,b]$

S'il existe des réels m et M tels que $m \leq f(x) \leq M$ pour tout x de I alors $m(b-a) \leq \int_a^b f(x) dx \leq M(b-a)$

Majoration de la valeur absolue d'une intégrale

Soit f une fonction continue sur un intervalle $I = [a ; b]$

S'il existe un réel M tel que $|f(x)| \leq M$ alors $\left| \int_a^b f(x) dx \right| \leq M|b-a|$

5°) INEGALITES DES ACCROISSEMENTS FINIS

Théorème

Soit f une fonction dérivable sur un intervalle $[a,b]$ dont la dérivée f' est continue sur $[a,b]$. S'il existe deux réels tels que pour tout x de $[a,b]$ $m \leq f'(x) \leq M$ alors $m(b-a) \leq f(b) - f(a) \leq M(b-a)$

En particulier, si $|f'(x)| \leq M$ alors $|f(b) - f(a)| \leq M|b-a|$

6°) Intégrations par parties

Théorème

Soit u et v deux fonctions dérivables sur un intervalle I , telles que u' et v' sont continues sur I . Pour tous réels a et b de I , on a :

$$\int_a^b u'(x) v(x) dx = [u(x) v(x)]_a^b - \int_a^b u(x) v'(x) dx$$

Exemple :

$$\int_1^e x \ln x dx = [x^2 \ln x / 2]_1^e - \int_1^e x/2 dx = e^2/2 - [x^2/4]_1^e = e^2/4 - 1/4$$

Attention de bien choisir u et v car sinon on peut « aggraver » les choses et ne rien pouvoir calculer

Ainsi ici $u'(x) = x$ et $v(x) = \ln x$ car il est difficile de trouver une primitive de $\ln x$!

$$\begin{array}{ll} u'(x) = x & \text{donc } u(x) = x^2/2 \\ v(x) = \ln x & \text{donc } v'(x) = 1/x \end{array}$$

7°) Changement de variable

Exemple 1 : $U(x) = x + m$

Soit f une fonction définie et continue sur un intervalle $I = [a ; b + m]$, où a, b, m dans \mathbb{R} avec $a \leq b$ alors

$$\int_a^b f(x + m) dx = \int_{a+m}^{b+m} f(x) dx$$

On doit calculer

$$J = \int_3^7 (x + 3)^2 dx = \int_6^{10} x^2 dx = \left[\frac{x^3}{3} \right]_6^{10} = 784/3$$

On pose $U = x + 3$ d'où les bornes sont 6 et 10 ; comme $x = U - 3$ et $dx = dU$

Exercice : Calculer $\int_0^1 \frac{dx}{x^2 + 4x + 5}$ (On pourra remarquer que $x^2 + 4x + 5 = (x + 2)^2 + 1$)

.....

Exemple 2 : $U(x) = kx$ avec k NON NUL

Soit f une fonction définie et continue ka et kb, où a, b, k dans \mathbb{R} avec k non nul, alors

$$\int_a^b f(kx) dx = \frac{1}{k} \int_{ka}^{kb} f(x) dx$$

On doit calculer

$$J = \int_0^1 4x^2 dx = \int_0^1 (2x)^2 dx = \frac{1}{2} \int_0^2 x^2 dx = \left[\frac{x^3}{6} \right]_0^2 = 4/3$$

Exercice : calculer $\int_{1/4}^1 \frac{dx}{1 + 16t^2}$

.....

Théorème (Généralisation)

Soit U une fonction définie et dérivable sur un intervalle I = [a ; b] dont la dérivée est CONTINUE sur I.

Pour toute fonction f définie et continue sur l'intervalle U(I) , on a la formule , dit du « changement de variable » :

$$\int_{U(a)}^{U(b)} f(x) dx = \int_a^b f(U) dU = \int_a^b f[W(x)] W'(x) dx$$

avec $U = w(x)$ et $du = w'(x)dx$ càd $x = w^{-1}(x)$

Exemple 3 : U(x) = kx + m avec k NON NUL

On doit calculer

$$J = \int_0^1 4x^2 + 2x + 1 dx = \int_0^1 (2x + 1)^2 dx = \int_1^3 u^2 \cdot \frac{1}{2} du = \int_1^3 x^2 / 2 dx = [x^3/6] =$$

On pose $u = W(x) = 2x + 1$ d'où $x = \frac{1}{2}(u - 1)$ et les bornes sont 3 et 1
 $dx = \frac{1}{2} du$

Exemple 4 :

$$K = \int_1^2 \frac{e^x}{e^x + 1} dx \quad (\text{on pourra poser } u = e^x)$$

$$K = \int_1^2 \frac{e^x}{e^x + 1} dx = \int_e^{e^2} \frac{u}{u+1} \times \frac{1}{u} du = \int_e^{e^2} \frac{1}{u+1} du = [\ln(u+1)]_e^{e^2} = \ln\left(\frac{e^2 + 1}{e + 1}\right).$$

On pose $u = W(x) = e^x$ d'où $x = \ln u$ et les bornes sont e et e^2
 $dx = 1/u du$

III) DEVELOPPEMENTS LIMITES

1°) Etude de l'exemple de la fonction exponentielle

On a déjà vu qu'au voisinage de 0

$$e^x \approx 1 + x \text{ c'est - à dire } e^x = 1 + x + x\varepsilon(x) \text{ avec } \lim_{x \rightarrow 0} \varepsilon(x) = 0$$

Graphiquement , au voisinage de 0, la courbe de la fonction exponentielle se « confond » avec la tangente au point d'abscisse 0 D'équation $y = x + 1$. On a donc pu approcher au voisinage de 0 la valeur de e^x par un polynôme d'ordre 1.

On démontre à l'aide du calcul intégral qu'en réalité on peut approcher la valeur de e^x au voisinage de 0 par un polynôme d'ordre 2 , mais aussi par un polynôme d'ordre 3 ...et d'une façon générale par un polynôme d'ordre n appelé développement limité à l'ordre n :

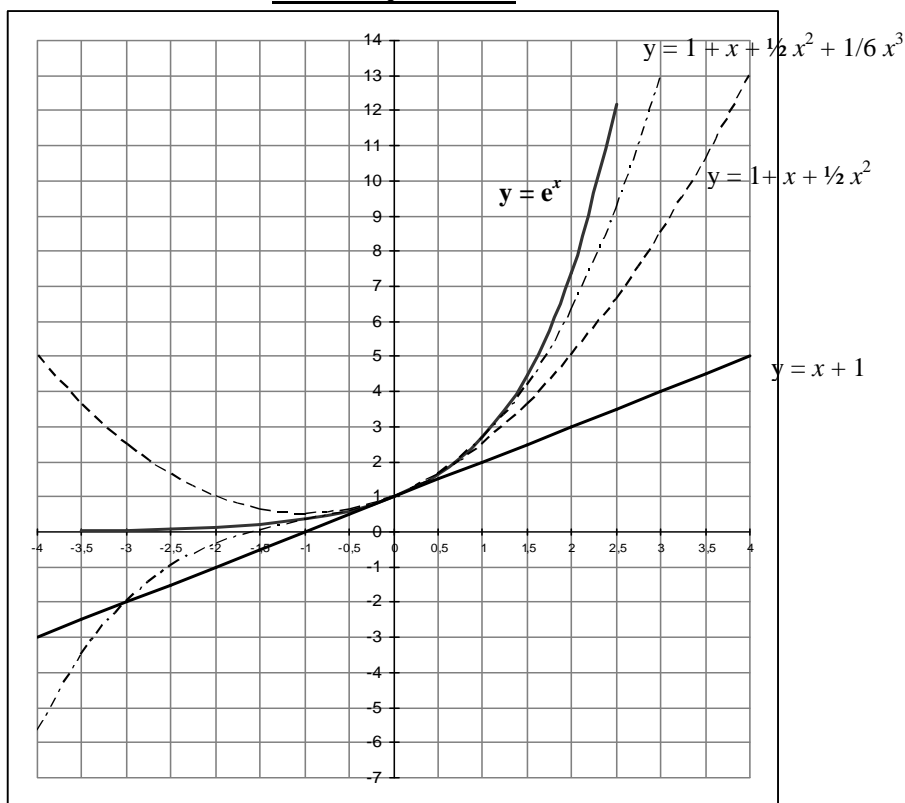
Développement limité à l'ordre 2 de la fonction exponentielle :

$$e^x = 1 + x + \frac{1}{2} x^2 + x^2 \varepsilon(x) \text{ avec } \lim_{x \rightarrow 0} \varepsilon(x) = 0$$

Développement limité à l'ordre 3 de la fonction exponentielle

$$e^x = 1 + x + \frac{1}{2} x^2 + \frac{1}{6} x^3 + x^3 \varepsilon(x) \text{ avec } \lim_{x \rightarrow 0} \varepsilon(x) = 0$$

GRAPHIQUEMENT



2°) Définition

Soit f une fonction définie sur un intervalle I contenant 0 et n un entier naturel non nul.

On dit que la fonction f admet un développement limité d'ordre n (dl n) au voisinage de 0 s'il existe un polynôme P_n

de degré inférieur ou égal à n et une fonction ε tels que :

$$f(x) = P_n(x) + x^n \varepsilon(x) = a_0 + a_1 x + a_2 x^2 + \dots + a_n x^n + x^n \varepsilon(x) \quad \text{avec} \quad \lim_{x \rightarrow 0} \varepsilon(x) = 0$$

Le polynôme $P_n(x) = a_0 + a_1 x + a_2 x^2 + \dots + a_n x^n$ est la PARTIE REGULIERE du dl

Le terme $x^n \varepsilon(x)$ est le TERME COMPLEMENTAIRE du dl

TABLEAU DES DEVELOPPEMENTS LIMITES USUELS

A l'ordre n	A l'ordre 2	A l'ordre 3
$e^x = 1 + \frac{x}{1!} + \frac{x^2}{2!} + \dots + \frac{x^n}{n!} + x^n \varepsilon(x)$ $n! = 1.2.3. \dots (n-1) n$	$e^x = 1 + x + \frac{1}{2} x^2 + x^2 \varepsilon(x)$	$e^x = 1 + x + \frac{1}{2} x^2 + \frac{1}{6} x^3 + x^3 \varepsilon(x)$
$\frac{1}{1+x} = 1 - x + x^2 + \dots + (-1)^n x^n + x^n \varepsilon(x)$	$\frac{1}{1+x} = 1 - x + x^2 + x^2 \varepsilon(x)$	$\frac{1}{1+x} = 1 - x + x^2 - x^3 + x^3 \varepsilon(x)$
$\ln(1+x) = x - \frac{x^2}{2} + \frac{x^3}{3} + \dots + (-1)^{n-1} \frac{x^n}{n} + x^n \varepsilon(x)$	$\ln(1+x) = x - \frac{x^2}{2} + x^2 \varepsilon(x)$	$\ln(1+x) = x - \frac{x^2}{2} + \frac{x^3}{3} + x^3 \varepsilon(x)$
$\sin x = x - \frac{x^3}{3!} + \frac{x^5}{5!} + \dots + (-1)^p \frac{x^{2p+1}}{(2p+1)!} + x^{2p+1} \varepsilon(x)$	$\sin x = x + x^2 \varepsilon(x)$ sinus est impaire	$\sin x = x - \frac{x^3}{6} + x^3 \varepsilon(x)$
$\cos x = 1 - \frac{x^2}{2!} + \frac{x^4}{4!} + \dots + (-1)^p \frac{x^{2p}}{(2p)!} + x^{2p} \varepsilon(x)$	$\cos x = 1 - \frac{x^2}{2} + x^2 \varepsilon(x)$	$\cos x = 1 - \frac{x^2}{2} + x^3 \varepsilon(x)$ Cosinus est paire
$(1+x)^a = 1 + \frac{a}{1!} x + \frac{a(a-1)}{2!} x^2 + \dots + \frac{a(a-1)\dots(a-n+1)}{n!} x^n + x^n \varepsilon(x)$	$(1+x)^a = 1 + ax + \frac{1}{2} a(a-1) x^2 + x^2 \varepsilon(x)$	$(1+x)^a = 1 + ax + \frac{a(a-1)}{2} x^2 + \frac{a(a-1)(a-2)}{6} x^3 + x^3 \varepsilon(x)$

Remarque : Si la fonction est paire la partie régulière ne comporte que des termes de degré pair
 Si la fonction est impaire la partie régulière ne comporte que des termes de degré impair

3°) Opérations et dl

LA SOMME ET LE PRODUIT PAR UNE CONSTANTE REELLE

Si au voisinage de 0 $f(x) = P_n(x) + x^n \varepsilon_1(x)$ et $g(x) = Q_n(x) + x^n \varepsilon_2(x)$ alors

$$(f+g)(x) = P_n(x) + Q_n(x) + x^n \varepsilon_3(x) \quad \text{et} \quad kf(x) = k P_n(x) + x^n \varepsilon_4(x)$$

Exemple : On veut le dl3 au voisinage de 0 de la fonction $h(x) = 4e^x - \frac{1}{1+x}$

$$4e^x = 4\left[1 + x + \frac{1}{2}x^2 + \frac{1}{6}x^3 + x^3 \varepsilon_1(x)\right]$$

$$\frac{1}{1+x} = 1 - x + x^2 - x^3 + x^3 \varepsilon_2(x)$$

} donc

$$h(x) = 3 + 5x + x^2 + \frac{5x^3}{3} + x^3 \varepsilon(x)$$

où $\varepsilon(x) = \varepsilon_1(x) + \varepsilon_2(x)$

LE PRODUIT

Si au voisinage de 0 $f(x) = P_n(x) + x^n \varepsilon_1(x)$ et $g(x) = Q_n(x) + x^n \varepsilon_2(x)$ alors

$(f \times g)(x) = W_n(x) + x^n \varepsilon_3(x)$ où W_n est un polynôme de degré inférieur ou égal à n qui se déduit du produit $P_n(x) \times Q_n(x)$

Exemple : On veut le dl3 au voisinage de 0 de la fonction $t(x) = \frac{e^x}{1+x} = e^x x \frac{1}{1+x}$

$$e^x = 1 + x + \frac{1}{2}x^2 + \frac{1}{6}x^3 + x^3 \varepsilon_1(x)$$

$$\frac{1}{1+x} = 1 - x + x^2 - x^3 + x^3 \varepsilon_2(x)$$

} donc

$$t(x) = 1 + \frac{1}{2}x^2 - \frac{1}{3}x^3 + x^3 \varepsilon(x)$$

$$(1 + x + \frac{1}{2}x^2 + \frac{x^3}{6} + x^3 \varepsilon_1(x)) (1 - x + x^2 - x^3 + x^3 \varepsilon_2(x)) = 1 - x + x^2 - x^3 + x - x^2 + x^3 + \frac{1}{2}x^2 - \frac{1}{2}x^3 + \frac{x^3}{6} + \dots$$

On ne s'occupe que des termes de degré inférieur ou égal à 3.

LA COMPOSITION

Si au voisinage de 0 $f(x) = P_n(x) + x^n \varepsilon_1(x)$ c'est-à-dire $f(x) = a_0 + a_1 x + a_2 x^2 + \dots + a_n x^n + x^n \varepsilon_1(x)$

et $g(x) = Q_n(x) + x^n \varepsilon_2(x)$ **avec $g(0) = 0$** alors

$(f \circ g)(x) = R_n(x) + x^n \varepsilon_3(x)$ c'est-à-dire où $R_n(x)$ s'obtient à partir de $P_n[g(x)]$ càd

De $a_0 + a_1(Q_n(x) + x^n \varepsilon_2(x)) + a_2(Q_n(x) + x^n \varepsilon_2(x))^2 + \dots$

Exemple : On veut le dl2 au voisinage de 0 de la fonction $S(x) = \frac{1}{1+e^x}$

$$e^x = 1 + x + \frac{1}{2}x^2 + x^2 \varepsilon_1(x)$$

$$\frac{1}{1+x} = 1 - x + x^2 + x^2 \varepsilon_2(x)$$

} donc

$$S(x) = 1 + x + \frac{3}{2}x^2 + x^2 \varepsilon(x)$$

$$1 - [1 + x + \frac{1}{2}x^2 + x^2 \varepsilon_1(x)] + [1 + x + \frac{1}{2}x^2 + x^2 \varepsilon_1(x)]^2 + x^2 \varepsilon_2(x) = -(x + \frac{1}{2}x^2) + (1+x)^2 + 2 \cdot \frac{1}{2}x^2 \cdot (1+x) + \dots$$

INTEGRATION D'UN DLn

Soit f une fonction définie sur un intervalle I contenant 0 et F une primitive de f sur I.

Si au voisinage de 0 $f(x) = P_n(x) + x^n \varepsilon_1(x)$ c'est-à-dire $f(x) = a_0 + a_1x + a_2x^2 + \dots + a_nx^n + x^n \varepsilon_1(x)$

Alors le développement limité de F à l'ordre n+1 est

$$F(x) = F(0) + a_0x + \frac{a_1x^2}{2} + \dots + \frac{a_nx^{n+1}}{(n+1)} + x^{n+1} \varepsilon(x)$$

Exemple : On veut le dl3 au voisinage de 0 de la fonction $l(x) = \frac{1}{1+x^2}$

$$\frac{1}{1+x^2} = 1 - x^2 + x^4 \varepsilon_2(x)$$

Or l admet la fonction Arctangente comme primitive donc le dl4 de la

Fonction Arc tangente au voisinage de 0 est :

$$\text{Arctan } x = \text{Arctan } 0 + x - \frac{x^3}{3} + x^4 \varepsilon(x) \text{ soit } \text{Arctan } x = x - \frac{x^3}{3} + x^4 \varepsilon(x) \text{ avec } \lim_{x \rightarrow 0} \varepsilon(x) = 0$$